

RECONOCIENDO ¿FUNCIONES?

000

Asigna a cada una de las siguientes fórmulas la representación gráfica que le corresponde, colocando a la derecha de cada una el número de fórmula que le corresponde:

2/3/
4E

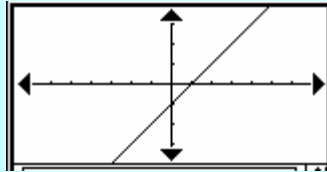
▼ Edit Tipo MemG

Hoja1 | Hoja2 | Hoja3 | Hoja

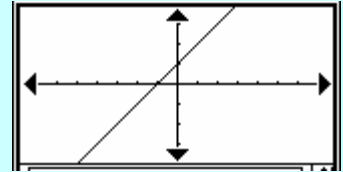
- $y_1 = 2 \cdot x + 1$
- $y_2 = x + 1$
- $y_3 = -x - 1$
- $x_4 = 4$
- $y_5 = -2 \cdot x + 2$
- $x_6 = 2$
- $y_7 = 2 \cdot x - 1$
- $y_8 = 2$
- $y_9 = -2$
- $y_{10} = 2 \cdot x + 2$
- $y_{11} = x - 1$
- $y_{12} = -4 \cdot x$
- $y_{13} = 2 \cdot x$
- $y_{14} = -0.5 \cdot x$
- $y_{15} = 0.5 \cdot x$
- $y_{16} = -1$
- $y_{17} = -x - 3$
- $x_{18} = -5$

Rad Cplj

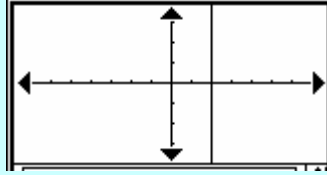
Gráfica 1



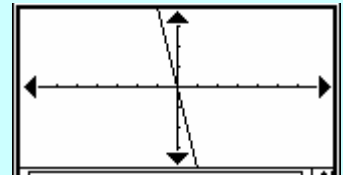
Gráfica 2



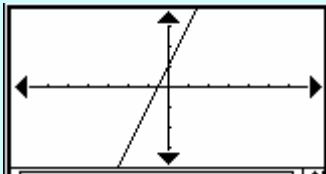
Gráfica 3



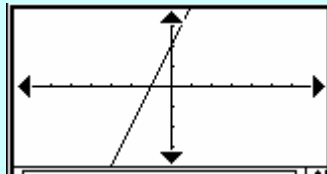
Gráfica 4



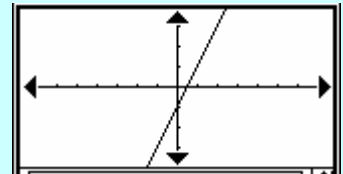
Gráfica 5



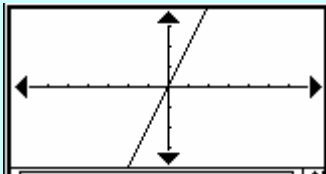
Gráfica 6



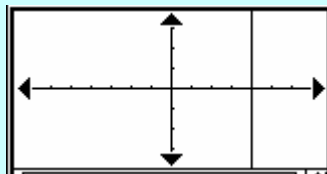
Gráfica 7



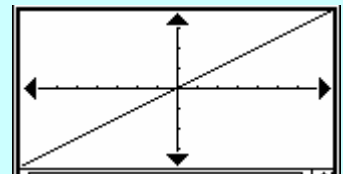
Gráfica 8



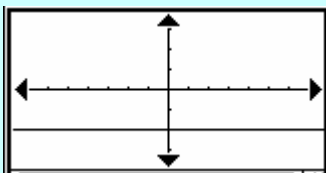
Gráfica 9



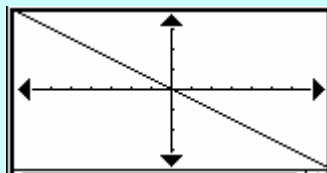
Gráfica 10



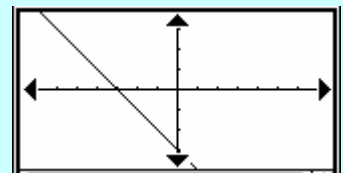
Gráfica 11



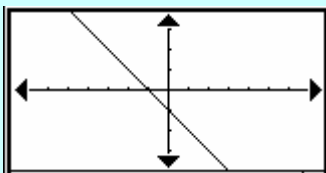
Gráfica 12



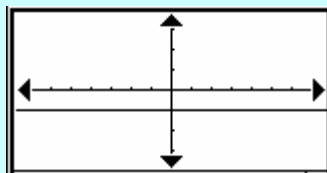
Gráfica 13



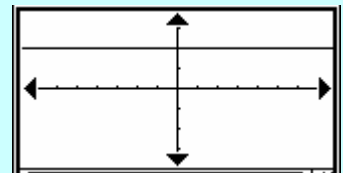
Gráfica 14



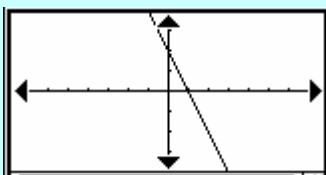
Gráfica 15



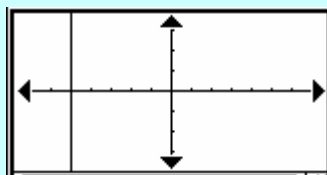
Gráfica 16



Gráfica 17



Gráfica 18



TIEMPO MÁXIMO PARA LA REALIZACIÓN DE LA PRESENTE PRUEBA: 15 MINUTOS





RECONOCIENDO ¿FUNCIONES?

001

Asigna a cada una de las siguientes fórmulas la representación gráfica que le corresponde, colocando a la derecha de cada una el número de fórmula que le corresponde:

2/3/
4E

<div style="border: 1px solid black; padding: 5px;"> <p>▼ Edit Tipo MemG</p> <p>Hoja1 Hoja2 Hoja3 Hoja4</p> <p><input type="checkbox"/> x1=5</p> <p><input type="checkbox"/> y2=2·x-1</p> <p><input type="checkbox"/> y3=-x+1</p> <p><input type="checkbox"/> y4=2·x</p> <p><input type="checkbox"/> y5=4·x-1</p> <p><input type="checkbox"/> y6=-$\frac{1}{3}$·x</p> <p><input type="checkbox"/> y7=5</p> <p><input type="checkbox"/> y8=x+3</p> <p><input type="checkbox"/> y9=-2·x-1</p> <p><input type="checkbox"/> y10=-2·x</p> </div>	Gráfica 1	Gráfica 2	
	Gráfica 3	Gráfica 4	
	Gráfica 5	Gráfica 6	Gráfica 7
	Gráfica 8	Gráfica 9	Gráfica 10

002

Asigna a cada una de las siguientes fórmulas la representación gráfica que le corresponde, colocando a la derecha de cada una el número de fórmula que le corresponde:

2/3/
4E

<div style="border: 1px solid black; padding: 5px;"> <p>▼ Edit Tipo MemG</p> <p>Hoja1 Hoja2 Hoja3 Hoja4</p> <p><input type="checkbox"/> y1=2·x-3</p> <p><input type="checkbox"/> y2=-2·x+3</p> <p><input type="checkbox"/> y3=4·x</p> <p><input type="checkbox"/> y4=3·x-3</p> <p><input type="checkbox"/> y5=2</p> <p><input type="checkbox"/> y6=x-2</p> <p><input type="checkbox"/> x7=-2</p> <p><input type="checkbox"/> y8=x</p> <p><input type="checkbox"/> y9=x+1</p> <p><input type="checkbox"/> y10=-x</p> <p><input type="checkbox"/> y11=0</p> <p><input type="checkbox"/> y12=0</p> </div>	Gráfica 1	Gráfica 2	
	Gráfica 3	Gráfica 4	
	Gráfica 5	Gráfica 6	Gráfica 7
	Gráfica 8	Gráfica 9	Gráfica 10